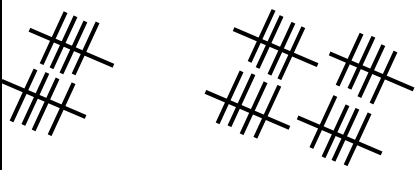
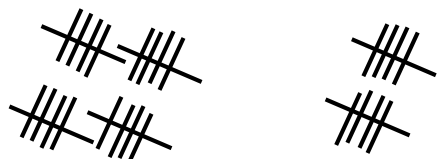


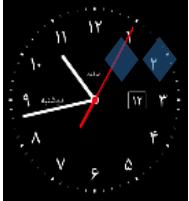

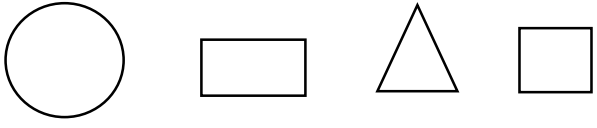



<p>به نام خداوند بخشنده ی مهربان</p> <p>وزارت آموزش و پرورش</p> <p>آزمون مدادکاغذی ریاضی تم 25</p> <p>نام و نام خانوادگی: _____</p> <p>زمان: 45 دقیقه</p> <p>تاریخ: / / _____</p>					
<p>1</p> <p>پسرم جمع کن و علامت مناسب بگذار.</p>  <p>10 + 20 = 30</p>  <p>20 + 10 = 30</p>					
<p>2</p> <p>دسته ی ده تایی درست کن. عدد آن را در جدول و جای خالی بنویس.</p>  <p>یکی ده تایی</p> <table border="1" data-bbox="860 661 998 808"> <tr> <td></td> <td></td> </tr> <tr> <td>2</td> <td>8</td> </tr> </table>  <p>28</p>			2	8	
2	8				
<p>3</p> <p>گلم حاصل را بنویس.</p> <p>$10 + 10 + 10 - 5 + 5 = 30$</p> <p>$5 + 10 + 5 + 5 = 25$</p>					
<p>4</p> <p>در جای خالی عدد مناسب بنویس.</p>  <p>ساعت از 10 گذشته است.</p>  <p>کمی به ساعت 11 مانده است.</p>					
<p>5</p> <p>12 ردک در آب بودند. 8 تا از آن ها از آب بیرون رفتند. چند اردک در آب مانده است؟</p> <p>$12 - 8 = 4$</p>					
<p>6</p> <p>جا های خالی را به طور مناسب پر کن.</p>					

50	76	45	99
پنجاه	هفتاد و شش	چهل و پنج	نود و نه

7 در جاهای خالی عدد مناسب بنویس.
 5 - 10- 15-20..... -25.....-30.....
 10 - 20 - 30 -40..... -50..... -60.....

8 نام هر شکل را بنویس .

 ..مربع.. ..مثلث..... ..مستطیل..... ..دایره...

9 گلم از کلمه های سبک تر و سنگین تر استفاده کن.

 کفش از جوراب ...سنگین تر..... است.
 جوراب از کفش ..سبک تر..... است.

10 گلم از 90 تا 100 بنویس.
 90-91-92-93-94-95-96-97-98-99-100

11 در گلدان 7 گل میخک و 9 گل رز است. 10 شاخه از آن ها پژمرده شدند.
 چند گل شاداب باقی مانده است؟
7..... +9..... =16.....
16..... -10..... =6.....

جدول راهنمای توصیف عملکرد:

تسلط کامل	تسلط متوسط	تسلط کم	تسلط خیلی کم

احساس دانش آموز :



بازخورد توصیفی:

جزوه سیپی